


Adı Soyadı:

3. SINIF HAYAT BİLGİSİ YIL SONU GENEL DEĞERLENDİRME - 2



DOĞRU

YANLIŞ



1. Verilen ifadelerden yanlış olan hangisidir?

- A) İnsanlar birbirinden farklı özelliklere sahiptir.
- B) Yeteneklerimiz ve becerilerimiz bizim güçlü yönlerimizdir.
- C) Hiç kimsenin zayıf yönü yoktur.

2. "Arkadaşlarımla oynadığım oyunlarda mızıkçılık yaparsam beni oynatmak" cümlesi hangisi ile tamamlanabilir?

- A) isterler
- B) istemeyebilirler
- C) zorunda kalırlar



3. Aşağıda verilen davranışlardan doğru olan hangisidir?

- A) Yaptığım hataları kabul eder ve özür dilerim.
- B) Bana verilen sırları başkalarına anlatırım.
- C) Arkadaşlarımı sürekli öğretmene şikayet ederim.

4. Yayaların ve taşıt sürücülerinin uymak zorunda olduğu kurallara ne ad verilir?

- A) sınıf kuralları
- B) trafik kuralları
- C) toplum kuralları

5.

nazik

kibar

tarafsız

sinirli

bencil

yalancı

Yukarıda verilen davranışlardan kaç tanesi olumlu davranıştır?

- A) 3
- B) 4
- C) 5

6. Kroki ile ilgili verilen bilgilerden hangisi yanlıştır?

- A) Kroki çizerken şekillerden yararlanabiliriz.
- B) Kroki çizerken cetvel, iletke gibi araçlar kullanabiliriz.
- C) Kroki ölçülü bir çizimdir.

7. Aşağıdakilerden hangisi okulun bize katkılarında biri değildir?

- A) Arkadaşlık ilişkilerimizi güçlendirir.
- B) Öz güvenimizi azaltır.
- C) Birlik olmayı öğretir.

8.

I. Eğitsel

II. Kültürel

III. Sosyal

Yukarıda verilenlerden hangileri okulun bize katkılarından?

- A) I ve II
- B) I ve III
- C) I, II ve III



9. Aşağıdakilerden hangisi okullardaki demokrasiye örnek bir davranıştır?

- A) Sınıf başkanlığı seçimi
- B) Öğretmen ataması
- C) Hizmetli görevlendirmesi



10. Dilekçe yazımı ile ilgili verilen ifadelerden yanlış olan hangisidir?

- A) Adımızın altına imza atmalıyız.
- B) Sol alt köşeye adresimizi yazmalıyız.
- C) Kurşun kalemle yazmalıyız.

11. Aşağıdaki mesleklerden hangisi güvenlik hizmet alanı ile ilgilidir?

A)



B)



C)



12.



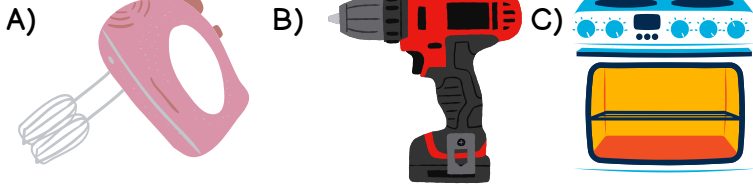
Yukarıdaki teknolojik aracın kullanılması için gerekli olan kaynak hangisidir?

- A) elektrik
- B) doğalgaz
- C) su

13. Aşağıdakilerden hangisi büyüklerimizin zamanında oynadıkları oyunlardan biridir?

- A) Uzaktan kumandalı araba
- B) Barbie bebek
- C) Topaç

14. Aşağıdaki elektrikli araçlardan hangisi mutfak işleri için kullanılmaz?



15. Aşağıdakilerden hangisi evde kullandığımız kaynaklardan biri değildir?



16. Bir evdeki gelir ve giderleri gösteren çizelgeye ne denir?

- A) aile bütçesi
- B) fatura
- C) tasarruf


17. "Uzun süre banyoda kalarak su yapmamalıyız." cümlesinde boş bırakılan yere hangisi gelmelidir?

- A) tasarrufu
- B) israfı
- C) kirliliği



optimistogretmen

18.

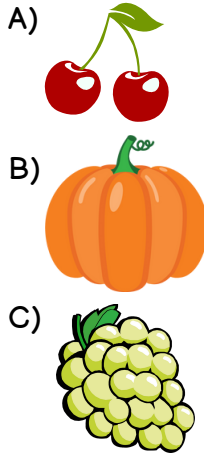


Yukarıdaki besinlerden kaç tanesi sağlıklıdır?

- A) 3
- B) 4
- C) 5



19. Verilenlerden hangisi kış meyvesidir?



20. Vücudumuz için gerekli olan besinleri yeterli miktarda ve doğru zamanlarda tüketmeye ne ad verilir?

- A) diyet
- B) öğün
- C) dengeli ve düzenli beslenme

CEVAPLAR

1	A	B	C
2	A	B	C
3	A	B	C
4	A	B	C
5	A	B	C
6	A	B	C
7	A	B	C
8	A	B	C
9	A	B	C
10	A	B	C

11	A	B	C
12	A	B	C
13	A	B	C
14	A	B	C
15	A	B	C
16	A	B	C
17	A	B	C
18	A	B	C
19	A	B	C
20	A	B	C

Başarılar dilerim...



3. SINIF HAYAT BİLGİSİ YIL SONU GENEL DEĞERLENDİRME - 2 CEVAP ANAHTARI



1	C
2	B
3	A
4	B
5	A
6	C
7	B
8	C
9	A
10	C

11	B
12	A
13	C
14	B
15	C
16	A
17	B
18	A
19	B
20	C

